

Complétez en forme lettrée

a) 73 b) 198 c) 513

Complétez en forme symbolique

a) Soixante six **66**

b) Huit cent quatre-vingt dix sept **897**

c) Seize **16**

a) soixante-treize
 b) cent quatre-vingt-dix-huit
 c) cinq cent treize
a)

Les Nombres

1 Un

2 Deux

3 Trois

4 Quatre

5 Cinq

6 Six

7 Sept

8 Huit

9 Neuf

+

00 - cent

000 - Mille

100 - Cent

1000 - Mille

10 00 - Dix mille

100 000 - Cent mille

1 000 000 - Million

1) Écris sous la forme écrite (lettre)

24 vingt-quatre

124 cent vingt quatre

824 huit cent vingt quatre

10 724 dix milles sept cent vingt quatre

103 936 un Cent trois milles neuf cent
trente six

2) Écris sous la form symbolique.

Soixante quatre 64

Huit cent soixante quatre 864

dix-sept milles quatre vingts trois 17 083

Cent trente quatre 134 milles cinq 134 005

Completez en forme écrite.

34 trente quatre

134 Cent trente quatre

72 Soixante deux

872 huit cent soixante deux

948 neuf cent quarante huit

4 948 quatre milles neuf cent quarante huit

15 948 quinze milles neuf cent quarante huit

715 427 sept cent quinze milles quatre cent

vingt-sept

Complètez en forme symbolique.

Soixante sept 67

Trois cent soixante sept 367

Six cent quatre vingt cinq 685

Quatre cent soixante dix-huit 478

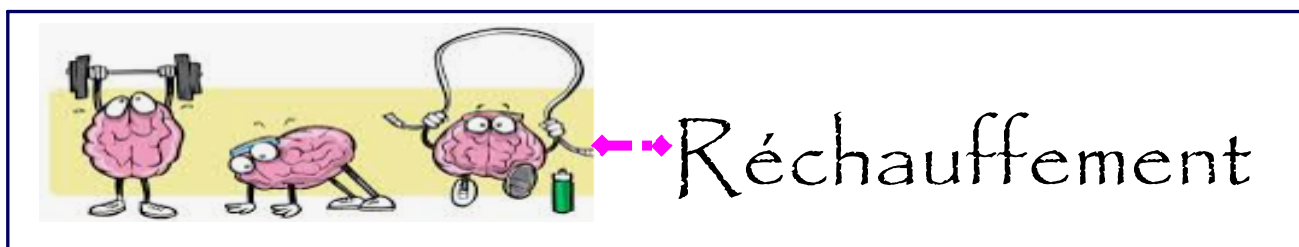
Deux milles cent trent huit 2138

Huit milles six cent quatre-vingts onze 8691

Douze milles neuf cent huit 12908

Cent soixante huit milles cinq cent quarante six 168546

Cinq cent sept milles trois 507 003



Complétez en forme lettrée

a) 73 b) 173 c) 1 073

Complétez en forme symbolique

- a) Cinquante huit
- b) Deux cent cinquante huit
- c) Six mille cinquante huit

Complétez en forme lettrée.

145 _____

578 _____

782 _____

1 743 _____

9 632 _____

Complétez en forme symbolique

Deux cent soixante quatre _____

Neuf cent soixante quinze _____

Un mille deux cent trente huit _____

Cinq mille huit cent soixante six _____

Dix sept mille neuf cent quatre vingt treize _____



1) Écris sous la forme symbolique.

Treize milles six cent quatre vingt

13 680

2) Écris sous la forme écrite.

104 036

Cent quatre milles trente six

Forme Symbolique

456

Forme Développée (Décomposé)

$$400 + 50 + 6$$

Forme Écrite ou Lettrée

Quatre cent cinquante six

Forme Symbolique

289

Forme Développée (Décomposé)

$$200 + 80 + 9$$

Forme Écrite

deux cent quatre vingt neuf

Forme Symbolique

5 426

Forme Développée (Décomposée)

$5000 + 400 + 20 + 6$

Forme Écrite ou Lettrée

Cinq milles quatre cent vingt six

Forme Symbolique

893

Forme Développée (Décomposé)

$800 + 90 + 3$

Forme Écrite

Huit cent quatre-vingt treize

Forme Symbolique

653

Forme Développée (Décomposé)

$$600 + 50 + 3$$

Forme Écrite ou Lettrée

Six cent cinquante trois

Forme Symbolique

392

Forme Développée (Décomposé)

$$300 + 90 + 2$$

Forme Écrite

trois cent quatre vingt ^{ou} deux

Forme Symbolique

103 047

Forme Développée (Décomposé)

$100\ 000 + 3\ 000 + 40 + 7$

Forme Écrite ou Lettrée

Cent trois milles quarante sept

Forme Symbolique

307 102

Forme Développée (Décomposé)

$300\ 000 + 7\ 000 + 100 + 2$

Forme Écrite

trois cent sept milles^{un} cent deux

Complétez en forme symbolique.

a) Treize mille six cent soixante dix neuf

Complétez en forme écrite

b) 4 000 + 300 + 40 + 1

Complétez en forme décomposée.

c) Cinq cent six mille soixante huit

68

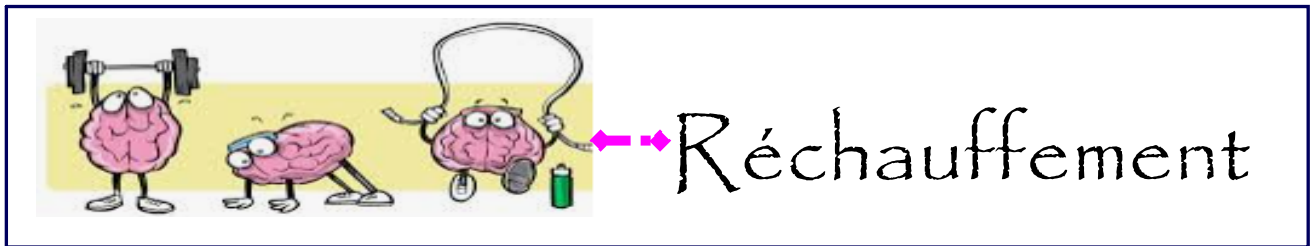


13 679

b) quatre mille trois cent quarante et un

c) 506 068

500 000 + 6000 + 60 + 8



Écris **seize mille trois cent dix sept** en forme symbolique et en forme décomposée.

OU

Écris **cent vingt huit million cinq mille quatorze** en forme symbolique et en forme décomposée.

Nom _____

Date _____

1. Écris chaque nombre sous la forme développée.

a) 1 345 _____

b) Quatre cent cinquante trois 453 _____**2. Écris chaque nombre sous la forme symbolique.**a) $3000 + 60 + 2$ _____b) Six mille deux cent soixant seize 6 276 _____**3. Écris chaque nombre sous la form écrite.**

a) 572 _____

b) $200 + 30 + 1$ _____**4. Écris chaque nombre sous la forme développée.**

a) 10 703 _____

b) Cinq milles sept _____


5. Écris chaque nombre sous la forme symbolique.a) $100\ 000 + 8\ 000 + 40 + 6$ _____

b) Soixante treize milles cent cinquante huit _____

6. Écris chaque nombre sous la form écrite.

a) 34 097 _____

b) $5\ 000 + 300 + 4$ _____



Réchauffement

Écris en forme symbolique:

a) cent huit ~~mille~~ cinq

108 005

Écris en forme lettrée

b) 300 ~~772~~

trois cent mille s sept cent soixante douze

Écris sous la forme écrite

205 897

1 004 003

24 857 000

Écris sous la forme symbolique

Huit cent milles deux cent trente six

Quarante millions soixante quatre milles sept

Cent quatre vingt dix sept millions quatorze

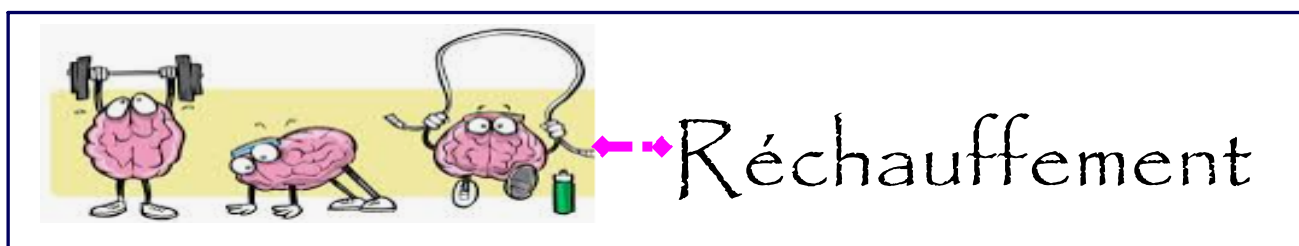


Écris en forme écrite.

a) 26 873

Écris en form symbolique.

b) Deux cent six milles sept



345

Écris le nombre suivante sous la forme

écrite.

345 098 400

trois cent quarante cinq millions
 quatre vingt dix huit milles
 quatre cent



OBJECTIF: N1

Je peux...

Identifier les nombres plus grand que
1 000 000 - 3 manières.

Vocabulaire

MILLIONS			MILLIERS			UNITÉS		
C	D	U	C	D	U	C	D	U
<i>Tranche des millions</i>			<i>Tranche des mille</i>			<i>Tranche des unités</i>		

1. Valeur de Position
2. Des Tranches
3. Centaines
4. Dizaines
5. Unités
6. Tableau de valeur de position
7. Tranches des Unités, de milliers, de millions ...

Tableau de valeur de position

Dans les grandes nombres, nous organisons les chiffres en groupes de trois valeurs de position.

Nous appelons ces groupes Des tranches.

Dans chaque tranche, les chiffres représentent des Unités, des dizaines et des Centaines.

Milliards			Millions			Milliers			Unités	
Centaines de Milliards	Dizaines de Milliards	Milliards	Centaines de Millions	Dizaines de Millions	Millions	Centaines de Milliers	Dizaines de Milliers	Milliers	Centaines	Dizaines

MILLIONS			MILLIERS			UNITÉS		
C	D	U	C	D	U	C	D	U
2	0	5	6	3	0	1	8	4
		↑	↑	↑			↑	

① Écris la de position du 5.

Unités de Millions

→ 2) Écris la valeur du 3.
30 000

→ 3) Écris la tranche du 8.
Unités

4) Écris la valeur de position du 6.
100 000

5) Forme Symbolique:
205 630 184

205 630 184
 200 000 000
 5 000 000
 + 600 000
 30 000
 100
 80
 4

6) Forme Décomposé:

7) Forme Écrite:
 deux cent cing millions
 six cent trente milles
 cent quatre vingt quatre

MILLIONS			MILLIERS			UNITÉS		
C	D	U	C	D	U	C	D	U
2	0	5	6	3	0	1	8	4

BILLIONS			MILLARDS			MILLIONS			MILLIERS			UNITÉS		
C	D	U	C	D	U	C	D	U	C	D	U	C	D	U
2	0	9	6	7	0	0	0	3	1	4	6	0	2	4

1) Écris la de position du 7.

dizaines de milliards

2) Écris la valeur du 9.

9 000 000 000 000

3) Écris la tranche du 1.

4) Écris la valeur de position du 3.

1 000 000

5) Forme Symbolique:

209 670 003 146 024

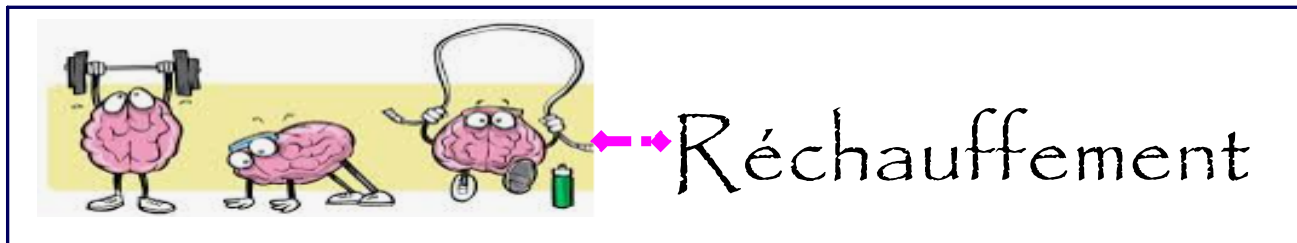
209 670 003 146 024
 200 000 000 000 000
 9 000 000 000 000
 600 000 000 000
 70 000 000 000
 3 000 000
 100 000
 40 000
 600
 20
 4

5) Forme Décomposé:

6) Forme Écrite:

deux cent neuf billions six cent soixante dix milliards trois millions cent quarante six milles vingt quatre

BILLIONS			MILLARDS			MILLIONS			MILLIERS			UNITÉS		
C	D	U	C	D	U	C	D	U	C	D	U	C	D	U
2	0	9	6	7	0	0	0	3	1	4	6	0	2	4



$$\begin{array}{r} \times 47 \\ 83 \\ \hline \end{array}$$

	40	7
80	3200	560
3	120	21

$$\begin{array}{r} 3200 \\ + 560 \\ + 120 \\ + 21 \\ \hline 3901 \end{array}$$

$$\begin{array}{r} \downarrow \\ \times 62 \\ 21 \\ \hline + 162 \\ \hline 1240 \\ \hline 1302 \end{array}$$

BILLIONS			MILLARDS			MILLIONS			MILLIERS			UNITÉS		
C	D	U	C	D	U	C	D	U	C	D	U	C	D	U

Forme Symbolique: 3 567 003

Forme Décomposée:

Forme Écrite:

BILLIONS			MILLARDS			MILLIONS			MILLIERS			UNITÉS		
C	D	U	C	D	U	C	D	U	C	D	U	C	D	U

Forme Symbolique:

Forme Décomposée: 6 000 000 000 +
20 000 000 + 40 000 + 300 + 10 + 7

Forme Écrite:

BILLIONS			MILLARDS			MILLIONS			MILLIERS			UNITÉS		
C	D	U	C	D	U	C	D	U	C	D	U	C	D	U

Forme Écrite: Trente deux billions huit milliards cent vingt six millions trois

Forme Symbolique:

Forme Décomposée:

MILLARDS			MILLIONS			MILLIERS			UNITÉS		
C	D	U	C	D	U	C	D	U	C	D	U
			3	4		5	0	0	0	9	0

Écris chaque nombres sous la forme écrite.

1) 345 000 902 trois cent quarante
cing millions neuf cent deux

MILLARDS			MILLIONS			MILLIERS			UNITÉS		
C	D	U	C	D	U	C	D	U	C	D	U
			2	7	8	9	3	9	0	0	0

2) 2 789 390 002 deux milliards sept
cent quatre vingt neuf
millions trois cent quatre
vingt dix mille deux

MILLARDS			MILLIONS			MILLIERS			UNITÉS		
C	D	U	C	D	U	C	D	U	C	D	U
			3	4		0	0	0	0	3	4

3) 34 000 000 346 trois cent quatre
milliards trois cent quarante
six

MILLARDS			MILLIONS			MILLIERS			UNITÉS		
C	D	U	C	D	U	C	D	U	C	D	U
						4	0	2	3	0	1

Écris chaque nombres sous la forme symbolique.

1) Quatre millions vingt trois milles seize _____

4 023 016 :

MILLARDS			MILLIONS			MILLIERS			UNITÉS		
C	D	U	C	D	U	C	D	U	C	D	U
			5	0		2	0	0	6	6	2

2) Cinquante milliards deux cent millions six cent
soixante deux mille huit _____

50 200 662 008

MILLARDS			MILLIONS			MILLIERS			UNITÉS		
C	D	U	C	D	U	C	D	U	C	D	U
			1	0		0	0	0	0	0	9

3) Dix millions neuf _____

10 000 009

MILLIONS			MILLIERS			UNITÉS		
C	D	U	C	D	U	C	D	U

Symbolique: 234 874 918

Développée:

Écrite:

MILLIONS			MILLIERS			UNITÉS		
C	D	U	C	D	U	C	D	U
2	0	0	0	0	0	0	0	0
		1	0	0	0	0	0	0
			1	0	0	3	0	0

Symbolique: 201 013 024

Développée: $200\,000\,000 + 1\,000\,000 + 10\,000 + 3\,000 + 20 + 4$

Écrite: deux cent un millions treize mille vingt quatre

MILLIONS			MILLIERS			UNITÉS		
C	D	U	C	D	U	C	D	U

Symbolique:

Développée:

Écrite: Vingt huit millions quatre cent six mille trois

MILLIONS			MILLIERS			UNITÉS		
C	D	U	C	D	U	C	D	U

Symbolique: 483 904 002

Développée:

Écrite:

MILLIONS			MILLIERS			UNITÉS		
C	D	U	C	D	U	C	D	U

Symbolique:

Développée:

Écrite: sept cent quatre vingt quatorze millions huit cent trois milliers cinq cent trent neuf